

**Проверочная работа
по МАТЕМАТИКЕ**

4 КЛАСС

Вариант 10

Инструкция по выполнению работы

На выполнение работы по математике даётся 45 минут. Работа содержит 11 заданий.

В заданиях, после которых есть поле со словом «Ответ», запиши ответ в указанном месте.

В заданиях 5 (пункт 2) и 10 нужно сделать чертёж или рисунок.

В заданиях, после которых есть поле со словами «Решение» и «Ответ», запиши решение и ответ в указанном месте.

Если ты хочешь изменить ответ, то зачеркни его и запиши рядом новый.

При выполнении работы нельзя пользоваться учебниками, рабочими тетрадями, справочниками, калькулятором.

При необходимости можно пользоваться черновиком. Записи в черновике проверяться и оцениваться не будут.

Советуем выполнять задания в том порядке, в котором они даны. Для экономии времени пропускай задание, которое не удаётся выполнить сразу, и переходи к следующему. Постарайся выполнить как можно больше заданий.

Желаем успеха!

1

Вычисли: $4 \cdot 16$.

Ответ:

2

Вычисли: $6 \cdot (14 - 5) - 33$.

Ответ:

3

Коля хочет позавтракать в кафе. Меню показано на рисунке. Коля выбрал картофель фри, барбекю и какао и отдал продавцу 500 рублей. Сколько рублей сдачи он должен получить?

 <p>КАРТОФЕЛЬ ФРИ 60 руб.</p>	 <p>ЛАЗАНЬЯ 190 руб.</p>	 <p>ПЕЛЬМЕНИ 270 руб.</p>
 <p>БАРБЕКЮ 120 руб.</p>	 <p>КАКАО 90 руб.</p>	 <p>КЕКС 80 руб.</p>



Запиши решение и ответ.

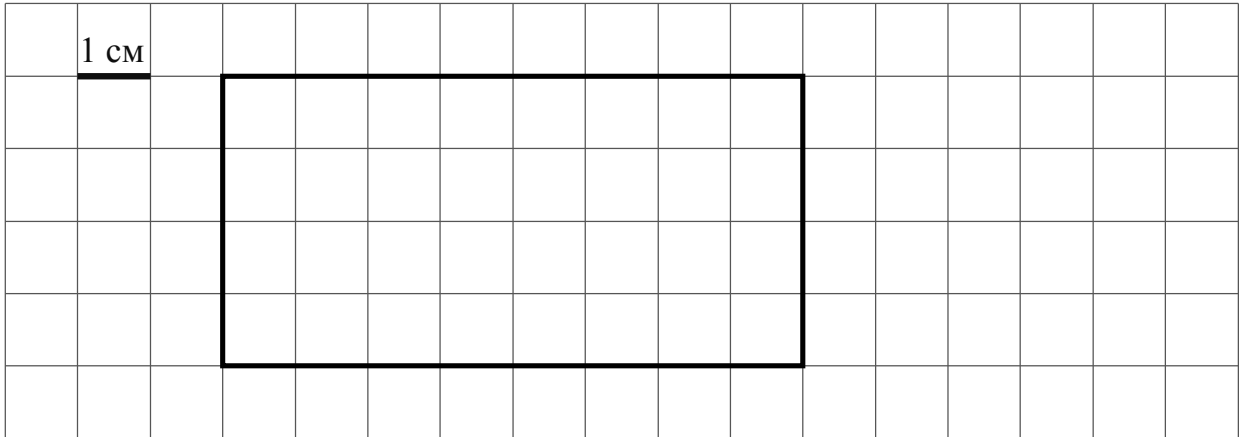
Решение:

Ответ:

- 4 Турнир по настольному теннису «Воля к победе» начался в 17:30 и продолжался 2 часа 45 минут. В котором часу закончился турнир?

Ответ: _____ ч _____ мин

- 5 На клеточном поле со стороной клетки 1 см изображён прямоугольник.



- 1) Найди периметр этого прямоугольника.

Ответ: _____

- 2) На клеточном поле рядом с прямоугольником нарисуй квадрат, периметр которого в 2 раза меньше периметра данного прямоугольника.

- 6 Четыре мастерицы плетут кружева. В таблице показано, сколько и каких изделий сплела каждая мастерица за месяц. Используя эти данные, ответь на вопросы.

Мастерица	Воротник	Салфетка	Скатерть
Катерина	4	5	0
Ольга	12	7	2
Мария	5	3	3
Любовь	9	2	1

- 1) Сколько воротников сплела Любовь?

Ответ: _____

- 2) Кто из мастериц сплёл больше всего изделий?

Ответ: _____

7

Вычисли: $18072 : 9 + 131 \cdot 19$.

Ответ:	

8

Большая упаковка пастилы стоит 200 рублей, маленькая стоит меньше. Марина купила две большие упаковки, четыре маленькие, отдала продавцу 1000 рублей и получила 80 рублей сдачи. Сколько рублей стоит маленькая упаковка пастилы?

Запиши решение и ответ.

Решение:	
Ответ:	

9

Антон, Боря и Варя бросали баскетбольный мяч в корзину. Каждый сделал 5 бросков. Все попали мячом в корзину разное число раз, а всего оказалось 10 попаданий. Боря попал мячом в корзину больше всех.

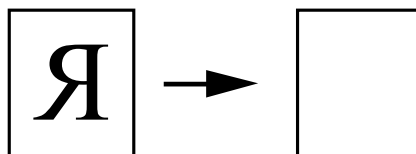
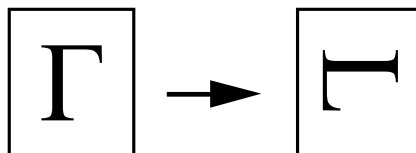
1) Сколько раз попал мячом в корзину Боря?

Ответ:	

2) Известно, что Варя попала мячом в корзину на один раз больше, чем Антон. Сколько раз попал мячом в корзину Антон?

Ответ:	

10 Преобразуй букву по образцу:



11 Отец оставил трём сыновьям в наследство 27 верблюдов. Старшему сыну досталось больше всех, а младшему – меньше всех. Если бы старший сын отдал младшему двух верблюдов, то у всех стало бы верблюдов поровну. Сколько верблюдов досталось в наследство среднему сыну?

Запиши решение и ответ.

Решение:

Ответ: